

KHỞI ĐỘNG



Holidays



**MÓN
QUÀ
BẤT
NGỜ**



$$38 + 6 = ?$$

44





$$82 + 9 = ?$$

91





$$47 + 9 = ?$$

56




Cùng nghe nhạc!



TOÁN

Bài 20: Phép cộng (có nhớ) số có hai chữ số với số có hai chữ số



KHÁM PHÁ

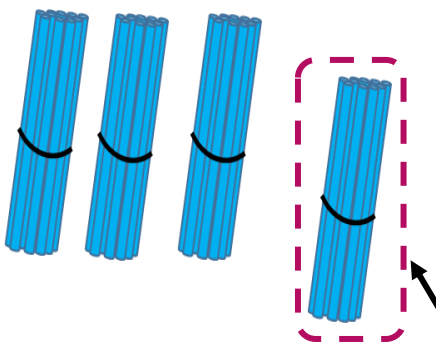
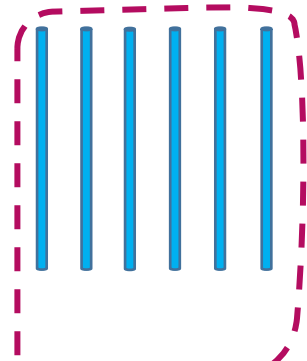
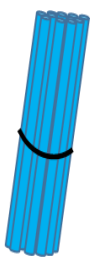
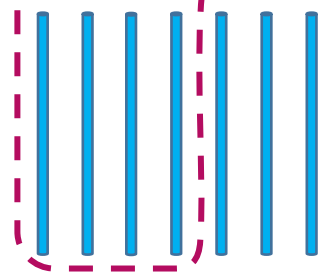




ĐỒI PIN LẤY VỠ



$$36 + 17 = ?$$

Chục	Đơn vị
	
	

Cháu có 17 cục pin.

Cháu có 36 cục pin.

Cả hai cháu có bao nhiêu cục pin?



$$\begin{array}{r} 36 \\ + 17 \\ \hline 53 \end{array}$$

- 6 cộng 7 bằng 13, viết 3 nhớ 1
- 3 thêm 1 bằng 4, 4 cộng 1 bằng 5, viết 5

$$36 + 17 = 53$$



HOẠT ĐỘNG





1 Tính.

$$\begin{array}{r} 17 \\ + \\ \hline 24 \end{array}$$

$$\begin{array}{r} 37 \\ + \\ \hline 36 \end{array}$$

$$\begin{array}{r} 42 \\ + \\ \hline 48 \end{array}$$

$$\begin{array}{r} 59 \\ + \\ \hline 25 \end{array}$$

$$17 + 24$$

$$\begin{array}{r} 17 \\ + 24 \\ \hline 41 \end{array}$$

Nháp

$$7 + 4 = 11$$

○ **NHỚ' 1**

$$37 + 36$$

$$\begin{array}{r} 37 \\ + 36 \\ \hline 73 \end{array}$$

Nháp

$$7 + 6 = 13$$

○ **NHỚ' 1**

$$42 + 48$$

$$\begin{array}{r} 42 \\ + 48 \\ \hline 90 \end{array}$$

Nháp

$$2 + 8 = 10$$

○ **NHỚ' 1**

$$59 + 25$$

$$\begin{array}{r} 59 \\ + 25 \\ \hline 84 \end{array}$$

Nháp

$$9 + 5 = 14$$

○ **NHỚ' 1**

2. Đặt tính rồi tính

$23 + 67$

$48 + 18$

$59 + 21$

$64 + 19$




2. Đặt tính

$$\begin{array}{r} + 23 \\ 67 \\ \hline 90 \end{array}$$

$$\begin{array}{r} + 46 \\ 18 \\ \hline 64 \end{array}$$

$$\begin{array}{r} + 59 \\ 21 \\ \hline 80 \end{array}$$

$$\begin{array}{r} + 64 \\ 19 \\ \hline 83 \end{array}$$



Hoan hô!
Các bạn thật tuyệt vời!





3 Mỗi hình có 1 que tính đặt sai vị trí. Em hãy đặt lại cho đúng. Biết rằng:

a) Que tính ở kết quả đặt sai.

$$36 + 45 = 97$$

$$36 + 45 = 81$$

$$36 + 45 = 97$$

b) Que tính ở số hạng thứ hai đặt sai.

$$74 + 16 = 84$$

$$74 + 10 = 84$$

$$74 + 16 = 84$$

VẬN DỤNG



GIẢI CỨU
THÚ CŨNG



Chơi

Các chú cún đã bị bắt cóc và bị nhốt trong những chiếc chuồng. Trong lúc kẻ xấu đang say ngủ, hãy cố gắng trả lời đúng các câu hỏi và giúp các chú cún trốn thoát.



HỌC TIẾP



Câu 1: $36 + 25 = ?$

61

Trở về

CÂU 2: $60 + \dots = 73$

13

Trở về

Câu 3: $2\dots + 34 = 62$. Số cần
điền là:

Số 8

Trở về

**Tạm biệt và
hẹn gặp lại**

